

Total Marks 200

501

GUJARATI
(English Medium)

Category

A

501-GUJARATI

A50100256

SEAL SEAL SEAL SEAL SEAL

Seat No. of the Candidate

--	--	--	--	--	--	--	--

Block No. of the Candidate

--

Signature of the Candidate

--

Signature of the Block Supervisor

--

Important Instructions for Candidates

- (1) Please do not open the question booklet until you are told to do so.
- (2) During examination, if a candidate is found having any literature guide, guide, piece of paper, handwritten or printed paper, mobile phone, calculator, spy camera, headphone or any other equipments then the candidate will be considered as disqualified.
- (3) During the examination if candidates are found conversing with each other, making noise or not following supervisor's instructions then they will be considered as disqualified.
- (4) After receiving question paper please write your seat number in **OMR SHEET** at the correct given place.
- (5) Please do not write your seat number at any other place than the allotted one in the **OMR SHEET** and if any sign of your identity or recognition is found then you will be considered totally disqualified for the examination.
- (6) Signatures of both the supervisor and the candidate in the certificate of **OMR SHEET** are compulsory without which **OMR SHEET** will not be evaluated, so it is compulsory for the candidate to get signature of the supervisor.
- (7) Candidates can use blue/black ball pen. They cannot use pens or pencils of any other colour and also whitener.
- (8) No marks should be made on any of the options in the question paper.
- (9) There are total 200 questions in this question paper. There is only one answer to each question from the options A, B, C and D. Four options are given for each question. All the questions are compulsory.
Example: What is the capital of Gujarat?
(A) Ahmedabad (B) Gandhinagar (C) Vadnagar (D) Patan
Here, if option (B) Gandhinagar is correct then option (B) in the **OMR SHEET** will have to be darkened with pen. **A** **B** **C** **D**
- (10) One(1) mark is allotted to each correct answer. For each wrong answer 0.25 marks will be deducted. If a candidate does not want to answer any question then he/she will have to select option E. Negative marking will not be applicable for option E.
- (11) Cross marked answers, answers given on more than one option and answers re-marked after use of blade, eraser or whitener will be given **Negative 0.25 marks.**
- (12) Please hand over the **OMR SHEET** to the block supervisor after completion of examination before leaving the classroom. Any candidate failing to do so will be considered as disqualified for the examination.
- (13) Maximum time allotted for the examination is 180 minutes.
- (14) Most appropriate option will be considered as answer of the question.

- (1) How many Indian languages have been declared endangered by UNESCO
(A) 195 (B) 196 (C) 189 (D) 197
- (2) The National Education Policy (NEP) 2020, integrates ____ to root education in ancient knowledge of India and its contribution in modern India.
(A) Knowledgeable India (B) Indian Knowledge System
(C) Modern India (D) Ancient India
- (3) The full form of PARAKH is _____.
(A) Private Assessment, Report and Analysis of Knowledge for Holistic
(B) Performance Assessment, Review and Analysis of Knowledge for Holistic development
(C) Performance Assistant, Review and Analysis of knowledge for Holistic development
(D) Personal Assistant, Review and Analysis of Knowledge for Holistic development.
- (4) A scientist of Indian origin who made groundbreaking contribution in the study of DNA was _____.
(A) Radha Krushnan (B) Amartya Sen
(C) Hargovind Khurana (D) Dr. A.P.J. Abdul Kalam
- (5) The Three Tier Panchayati Raj System was recommended by _____.
(A) Mactapl Committee (B) British Committee
(C) Sevak Committee (D) Balwantraj Mehta Committee
- (6) Commonwealth Games were previously known as _____.
(A) European Games (B) Euro – Asian Games
(C) Common Games (D) British Empire Games
- (7) Who appoints CAG?
(A) Prime Minister (B) President
(C) Vice-President (D) Chief – Minister
- (8) The battle between Porus and Sikander was fought on the bank of _____ river.
(A) Chenab (B) Ravi
(C) Satluj (D) Jhelum

- (9) "Who among the following reigned during the Anno Domini Period?"
(A) Chandragupt Maurya (B) King Ashok
(C) Khilji Dynasty and Tughlaq Dynasty (D) Bindusara
- (10) _____ is the most renowned form of dance of Maharashtra.
(A) Ghumar (B) Kalbeliya
(C) Kachhghodi (D) Laavani
- (11). _____ was invented by Michael Faraday?
(A) Penicillin
(B) Periodic Table
(C) Precious Metal - Radium
(D) Conversion of Kinetic Energy into Electric energy
- (12) _____ among the following was written by Manubhai Pancholi (Darshak)
(A) Upanas (B) Socrates
(C) Arunay (D) Hayaati
- (13) Anup Kumar is a renowned _____ player.
(A) Kho - Kho (B) Kabaddi
(C) Cricket (D) Football
- (14) _____ was Suggested by Swami Vivekanand to Promote nationalism in India.
(A) Pride of the nation
(B) Public awareness and upliftment of the poor
(C) Inclusive Vision
(D) Cultural Pride
- (15) _____ is not a renewable energy resource.
(A) Forest (B) Wind
(C) Natural Gas (D) Sunlight

- (16) _____ was considered as the “Soul of Indian constitution” by Dr. B. R. Ambedkar.
- (A) Right to Education
(B) Cultural and Educational Right
(C) Right to go against exploitation
(D) Right to the Constitutional Remedies
- (17) Panchayati Raj Institutions came to exist on _____ in Gujarat.
- (A) 1st May, 1960
(B) 20th April, 1993
(C) 15th August, 1947
(D) 1st April, 1963
- (18) _____ is not founded by the Government to implement the recommendations of Mudaliar Commission 1953.
- (A) Rural Higher Education Committee
(B) University Grants Commission
(C) All India Education Council
(D) All India Council of Sports
- (19) Astronaut Sunita Williams has an ancestral link with _____.
- (A) Karnal, Haryana
(B) Vadodara, Gujarat
(C) Mahesana, Gujarat
(D) Kurukshetra, Haryana
- (20) _____ hosted the Kabaddi World Cup 2025.
- (A) India
(B) England
(C) South Korea
(D) Malaysia
- (21) Open and Distance Learning (ODL) is included in _____ education.
- (A) Formal
(B) Informal
(C) Non-formal
(D) None of the above
- (22) “I never teach my pupils; I only attempt to provide the conditions in which they can learn”
who quoted it?
- (A) Maharshi Arvind
(B) Albert Einstein
(C) Pestology
(D) Eric Crome

- (23) "A person must use the development of his individuality by aligning it to the social needs and ideals."
This is _____ aim of education.
- (A) an Individual (B) a Social
(C) a Peculiar (D) a Sovereign
- (24) _____ described education as a tri-polar process consisting of the teacher the learner the social environment or syllabus as a third pole".
- (A) John Dewey (B) John Adams
(C) Herbert Spencer (D) Benjamin S. Bloom
- (25) Idealism is also known as _____.
- (A) Idealism (B) Realism
(C) Naturalism (D) Pragmatism
- (26) John Dewey, Kilpatrick, and Mahatma Gandhi advocated _____.
- (A) Existentialism (B) Naturalism
(C) Idealism (D) Pragmatism
- (27) Social and National Integration can be attained through _____.
- (A) Joint Family (B) Requirement of Food
(C) Democracy (D) Population growth
- (28) What kind of education enables human to utilize free time more joyful and productive activities?
- (A) Non-formal Education
(B) Continuing Education
(C) Life-long Education
(D) Education through correspondence
- (29) The cultural objective of education emphasizes on _____.
- (A) to enrich a person with knowledge
(B) to inculcate ideals and morals in life
(C) to Transfer Knowledge, Art, Literature, Music from generation to generation.
(D) to enable a person to earn livelihood

- (30) "Human bears the competency of adapting to the situation and adapting one's needs to the situation" ____ form of pragmatism supports it.
- (A) Nominalistic Pragmatism (B) Experimental Pragmatism
(C) Biological Pragmatism (D) Humanistic Pragmatism
- (31) A person with IQ score 100, is placed in ____ category.
- (A) Average Intelligence (B) High Intelligence
(C) Lower Intelligence (D) Superior Intelligence
- (32) ____ type of Psychological conflict do Students Face when they neither want to stay at home nor go to school?
- (A) Approach – Avoidance (B) Approach – Approach
(C) Avoidance – Avoidance (D) Dual Approach Avoidance
- (33) A Psychologist who believed that "Motivation is cyclic"
- (A) Lipid (B) C.T. Morgan
(C) Lewin (D) Emilicuma
- (34) Which test is used to detect mental retardation among children?
- (A) Achievement Test (B) Reading Test
(C) Through General Observation (D) Intelligence Test
- (35) The full form of GATB is ____.
- (A) Great Attitude Test Box
(B) Global Attitude Test Book
(C) Global Aptitude Test Book
(D) General Aptitude Test Battery
- (36) ____ is placed the first among eight stages of Robert Gagne's approach.
- (A) Stimulus – Response Approach
(B) Verbal – Association Approach
(C) Problem – Solving Approach
(D) Chaining Approach

- (37) "Trial and Error Principle" of Thorndike is known as ____.
- (A) Stimulus – Response Approach
 - (B) Theory of operant conditioning
 - (C) Cognitive Learning Theory
 - (D) Principle of motivation
- (38) After fulfilling basic Physiological need, the next level in Maslow's Hierarchy of needs is ____.
- (A) Love and Belongingness
 - (B) Esteem Needs
 - (C) Self – Actualization needs
 - (D) Safety Needs
- (39) The measurement of intelligence was first successfully introduced by ____.
- (A) Garrett and Menttest
 - (B) Binet and Simon
 - (C) Crow and Crow
 - (D) Thurston and Speareman
- (40) The learning graph remains extended and horizontal during ____ temporary stage.
- (A) Learning
 - (B) Maturity
 - (C) Plateau
 - (D) End
- (41) To counsel a student towards the most suitable field of learning and future profession, educator usually rely on ____ test.
- (A) Intelligence Test
 - (B) Personality Measurement Test
 - (C) Aptitude Test
 - (D) Diagnostic Test
- (42) To enable a student to develop their creativity fully and completely, maximum importance should be given to ____.
- (A) Process
 - (B) Idea
 - (C) Excellence
 - (D) Creativity
- (43) While framing the teaching method in curriculum development, ____ state of students require prior consideration.
- (A) Mental
 - (B) Physical
 - (C) Emotional
 - (D) Holistic

- (44) _____ is Pre-requisite in order to promote concentration in Students.
- (A) Proficiency of Teacher
 (B) Selection of proper method, congruent to the unit
 (C) Age level
 (D) Mental level
- (45) Any action that is derived from internal motivation and different from temptation is called ____.
- (A) Improper
 (B) Motivation
 (C) Eligibility
 (D) Distress
- (46) Classroom behaviour generally observes total ____ types of interactions.
- (A) Five
 (B) Two
 (C) Three
 (D) One
- (47) Bakum developed an evaluation process to measure ____ development of student.
- (A) Physical
 (B) Mental
 (C) Holistic
 (D) Social
- (48) ____ has released an education from the bandage of Time, Collection and number.
- (A) Internet
 (B) Technology
 (C) Website
 (D) Open University
- (49) The research that scientifically studies the daily problems of the school is called, _____ research.
- (A) Pragmatic
 (B) Action
 (C) Conditioning
 (D) Visiting
- (50) To find out the mid-point of the given group, _____ is calculated
- (A) Median
 (B) Mode
 (C) Mean
 (D) Any of the above
- (51) _____ is also known as Skinnerian Instruction.
- (A) Branchial Instruction
 (B) Linear Instruction
 (C) Mathematical Instruction
 (D) All of the above

(52) Ned Flanders' Interaction analysis categories comprises Ten main categories, out of that three are..

(i) Teacher's Talk

(ii) Pupil's Talk

(iii) Silence

Which of the following shows the correct order?

(A) (i) 7 (ii) 1 (iii) 2

(B) (i) 4 (ii) 4 (iii) 2

(C) (i) 6 (ii) 3 (iii) 1

(D) (i) 7 (ii) 2 (iii) 1

(53) _____ is a correct formula for calculating Percentile Rate.

(A) $PR = 100 - \frac{(100R - 50)}{N}$

(B) $PR = 100 \frac{(100R - 50)}{N}$

(C) $PR = 100 - \frac{(50R - 100)}{N}$

(D) $PR = 1 - \frac{(100R - 50)}{N}$

(54) _____ is a correct mean of 6, 9, 10, 12, 16, 17.

(A) 10

(B) 11

(C) 17

(D) 12

(55) "Teacher uses the change in gestures, modulation of voice and hands' movement so that students stay focused" – This is mainly applied in _____ skill.

(A) Introductory

(B) Illustration

(C) Learning aids Experiment Skill

(D) Stimulus change

(56) _____ will replace the (?)

3000, 1500, 500, 125, (?)

(A) 100

(B) 50

(C) 25

(D) 20

(57) 'A' is the sister of 'B'. 'C' is the mother of 'B'. 'D' is the father of 'C'. Then D is the _____ of A.

(A) Maternal Uncle (Mama)

(B) Father

(C) Maternal Uncle (Maasa)

(D) Maternal Grandfather

(58) _____ among the following cannot be framed by using the letter of word

"INDEPENDENCE"

(A) NICE

(B) PINE

(C) PENDING

(D) INDEED

(59) Kavya begins to walk to the south from point A. She turns left after walking 30 metres. Then she walks 40 metres straight and reaches the point 'B'. Now find the distance between 'A' and 'B'.

(A) 50 metres

(B) 35 metres

(C) 70 metres

(D) 120 metres

(60) If $B=2$, $BAG = 10$ then find the value of BOX .

(A) 11

(B) 12

(C) 41

(D) 42

(61) Find the correct odd one from the following.

(A) DEGJ

(B) MNPS

(C) PQTX

(D) TUVZ

(62) Five friends are sitting in a line, A is sitting right to B, but not sitting the first. C is sitting left to D. If B is sitting right to E then who is exactly in the middle?

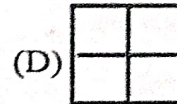
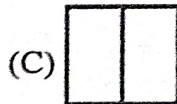
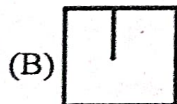
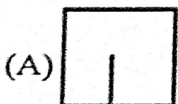

(A) A

(B) B

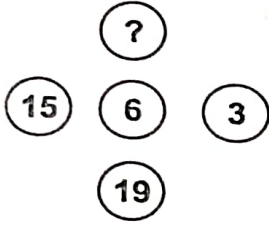
(C) D

(D) E

(63) Figure is given. _____ among the option correctly replaces (?).



- (64) 34, 18, 10, 6, 4, _____.
- (A) 0 (B) 1 (C) 2 (D) 3
- (65) If DOG is coded as '4157' Then LION will be _____.
- (A) 1271514 (B) 1291514
(C) 1291312 (D) 1181514
- (66) There are total 65 students in a line. A stands 36th from the left, B Stands 36th from the right then total _____ students must be standing between both A and B.
- (A) 9 (B) 13
(C) 15 (D) 11
- (67) _____ will replace the (?)



- (A) 91 (B) 610
(C) 691 (D) 587
- (68) Thermometer : Temperature :: Earthquake : _____.
- (A) Scale (B) Seismograph
(C) Anemometer (D) Odometer
- (69) The angle formed by the minute and hour hands at 4:00 pm is _____.
- (A) 120° (B) 100°
(C) 80° (D) 60°
- (70) _____ among the following will stay first if arranged in alphabetical order.
- (A) Overbid (B) Outstanding
(C) Oval (D) Outstep

- (71) કયા વાક્યમાં અવ્યયનો ઉપયોગ થતો નથી ?
 (A) તે પાસ થયો કેમ કે તેણે ખૂબ મહેનત કરેલી. (B) શાબાશ છે એ બહાદૂર જુવાનને ।
 (C) એ પ્રાણઘાતક અકસ્માતથી તે મરી જત. (D) એ ચોરની પેઠે ઘરમાં ધૂસ્યો.
- (72) કયું વાક્ય કર્મણિ પ્રયોગમાં નથી ?
 (A) તને વિમાન દેખાય છે ? (B) મેં શીર્ષસન કર્યું.
 (C) મને વાત સમજાય છે. (D) મારે આસને બેસવું છે.
- (73) A સાથે Bનાં સાચાં જોડકાં દર્શાવતો વિકલ્પ કયો છે ?
- | A | B |
|--------------------------|--------------------|
| (a) લખવાનું આપોને | (i) ભવિષ્યકૃદંત |
| (b) માગ્યા મેહ વરસે નહીં | (ii) સંબંધક ભૂ.કૃ. |
| (c) લખી લખીને થાક્યો | (iii) હેત્વર્થ |
| (d) વાંચવા આવજો | (iv) ભૂતકૃદંત |
- (A) (a) i, (d) ii, (b) iii, (c) iv (B) (b) i, (c) ii, (d) iii, (a) iv
 (C) (c) i, (b) ii, (d) iii, (a) iv (D) (a) i, (c) ii, (d) iii, (b) iv
- (74) કયા જોડકામાંના શબ્દો એક પ્રકારનો જ સમાસ દર્શાવે છે ?
 (A) તપોધન, પાઠવેતર (B) ઘનશ્યામ, કાપુરુપ
 (C) કલ્પલતા, શ્રીયુત (D) શેષશાયી, સ્વચ્છંદ
- (75) એ શબ્દ શોધો કે જેનો અર્થ અન્ય કરતાં ભિન્ન છે.
 (A) પુંડરિક (B) પર્યક (C) રાજીવ (D) શતદલ
- (76) સાચી જોડણી પસંદ કરો.
 (A) હિમસૂતા (B) હીમસૂતા
 (C) હીમસૂતા (D) હિમસૂતા
- (77) એ, થી, થકી, વડે વગેરે પ્રત્યયો કઈ વિભક્તિમાં આવે છે ?
 (A) સંપ્રદાન (B) અપાદાન
 (C) સંબંધ (D) કરણ
- (78) પોતાની વાતને કે વિષયને સ્પષ્ટ કરવાનો પ્રયત્ન કરતા ગદ્યને કયા પ્રકારનું ગદ્ય કહેવામાં આવે છે ?
 (A) વાદાત્મક (B) વિવરણાત્મક
 (C) વર્ણનાત્મક (D) ભાવાત્મક

- (79) તમતમારે, જુદાજુદા, દૂરદૂરથી વગેરે કયા પ્રકારના શબ્દો છે ?
 (A) નામયોગી શબ્દો (B) સંયુક્ત શબ્દો
 (C) સામાસિક શબ્દો (D) દ્વિરુક્તિવાળા શબ્દો
- (80) નીચેનામાંથી પરિભાષવાચક વિશેષણ જણાવો.
 (A) આટલું (B) આવું
 (C) કડવું (D) પહેલું
- (81) નીચેનામાંથી કયા વિકલ્પમાં તમામ શબ્દોની જોડણી વ્યાકરણની દૃષ્ટિએ સંપૂર્ણ સાચી છે ?
 (A) શારીરિક, આશીર્વાદ, જિજ્ઞાસુ, સુશ્રુષા
 (B) શારીરિક, આશીર્વાદ, જિજ્ઞાસુ, શુશ્રુષા
 (C) શારીરિક, આશિર્વાદ, જિજ્ઞાસુ, શુશ્રુષા
 (D) શારીરિક, આશિર્વાદ, જિજ્ઞાસુ, શુશ્રુષા
- (82) નીચેનામાંથી કયો શબ્દ 'અમ્'નો પર્યાયવાચી શબ્દ નથી ?
 (A) હાય (B) વાણ
 (C) તોખાર (D) કુંજર
- (83) વાક્યશુદ્ધિના નિયમ અનુસાર નીચેનામાંથી વ્યાકરણની દૃષ્ટિએ શુદ્ધ વાક્ય પસંદ કરો.
 (A) મેં આજે એક ગાય અને એક બળદને આવતી જોઈ.
 (B) મેં આજે એક ગાય અને એક બળદ આવતાં જોયાં.
 (C) મેં આજે એક ગાય અને એક બળદ આવતા જોયો.
 (D) મેં આજે એક ગાય અને બળદને આવતી જોઈ.
- (84) નીચેના વાક્યમાં વ્યાકરણીય રીતે કયો શબ્દપ્રયોગ ખોટો છે ? "તેણે મને સહૃદયતાપૂર્વક આવકાર આપ્યો."
 (A) તેણે
 (B) સહૃદયતાપૂર્વક
 (C) આવકાર
 (D) આપ્યો
- (85) લેખનકાર્ય કરતી વખતે વાક્યના અંતે કે વચ્ચે કોઈ વિગત લખવાની બાકી રહી ગઈ હોય, ત્યારે તેને ઉમેરવા માટે કયા ચિહ્નનો ઉપયોગ થાય છે ?
 (A) લોપચિહ્ન (') (B) કાકપદ / હંસપદ (^)
 (C) લઘુરેખા (-) (D) કુદડી (*)

(86) Pair the words with their antonyms.

Words

Antonyms

(a) lazy

(i) diligent

(b) active

(ii) blunt

(c) sharp

(iii) inert

(d) fertile

(iv) barren

(A) (c) i, (d) ii, (a) iii, (b) iv

(B) (a) ii, (c) iii, (b) i, (d) iv

(C) (c) ii, (d) i, (b) iii, (a) iv

(D) (a) i, (d) iii, (c) ii, (b) iv

(87) Which word has no suffix.

(A) Health

(B) Library

(C) Embrace

(D) Marriage

(88) Find out the odd pair.

(A) proud - pride

(B) bond - bind

(C) grieve - grief

(D) lose - loss

(89) Arrange these sentences in proper order to describe an accident-scene.

(i) Passengers were told to be ready to quit the ship.

(ii) Everyone knew there was fire on board.

(iii) Smoke oozed up between the planks.

(iv) Flames broke out here and there.

(v) Most people bore the shock bravely.

(A) iii, ii, v, iv, i

(B) i, ii, iv, iii, v

(C) iv, iii, ii, v, i

(D) iii, iv, ii, i, v

(90) Select the sentence with almost similar meaning to the sentence "At the moment the duck looked exhausted."

(A) The duck looked dreadful

(B) The duck was looking for a place to hide

(C) The duck looked very tired.

(D) The duck seemed unhappy.

(91) Put proper preposition in the blank. He was looking his lost keys.

(A) at

(B) for

(C) after

(D) into

- (92) he finds a job, his family will starve. Fill in the blank with proper word.
 (A) It (B) Unless (C) As (D) However
- (93) The harder you work, the result you will get.
 (A) good (B) best
 (C) better (D) lower
- (94) Select the similar word for Inventory.
 (A) Summary (B) Schedule
 (C) Index (D) Questionnaire
- (95) All the crows are black. We find a white crow, put proper adverb to complete the sentence.
 (A) frequently (B) usually
 (C) rarely (D) always
- (96) Which expression best conveys the idea ?
 (A) During the curfew, the streets wearing desolate look.
 (B) During the curfew, the streets wore a desolate look.
 (C) During the curfew, the streets have had worn desolate looks
 (D) During the curfew, the streets has been wearing desolation looks
- (97) What is the correct noun form of the verb 'compel' ?
 (A) Compelation (B) Compulsion
 (C) Compulsory (D) Compellment
- (98) Fill in the blank with the correct preposition : "The committee is totally opposed the new proposal."
 (A) for (B) against
 (C) to (D) with
- (99) Fill in the blanks with appropriate articles : "He is heir to the throne and honest man."
 (A) a, a (B) an, a (C) an, an (D) the, a
- (100) Identify the correct verb according to subject-verb Agreement : "Neither the principal nor the teachers present at the meeting yesterday."
 (A) was (B) were (C) are (D) is

- (101) શ્રીકૃષ્ણને જગાડતા કવિના શબ્દોમાં કયો ભાવ નીતરે છે?
 (A) ભાતૃભાવ (B) જશોદાભાવ
 (C) પિતૃભાવ (D) ગોપીભાવ
- (102) રમણલાલ વ. દેસાઈને 'યુગમૂર્તિ વાતકાર' તરીકે ઓળખાવનાર વિવેચકનું નામ જણાવો.
 (A) નવલરામ પંડ્યા
 (B) ગોવર્ધનરામ ત્રિપાઠી
 (C) વિશ્વનાથ ભટ્ટ
 (D) આનંદશંકર ધ્રુવ
- (103) 'ભાડૂતી માણો !' એમને શી કાળજી? આ વાક્ય કોણ બોલે છે?
 (A) કુસુમાયુધના પિતા (B) કુસુમાયુધના બા
 (C) અપરમા (D) ડોક્ટર
- (104) અક્ષયપાત્ર કોણ રાખે છે?
 (A) શિવજી (B) સમર્ષિઓ
 (C) સુર (D) સૂર્યદેવ
- (105) ડૉ. અબ્દુલ કલામે પ્રાથમિક શિક્ષણ ક્યાં લીધું?
 (A) રામનાથપુરમ્માં (B) તિરુચિરિપલ્લમાં
 (C) મદ્રાસમાં (D) રામેશ્વરમમાં
- (106) દલપતરામ કયા સામાયિકના તંત્રી હતા?
 (A) સંસ્કૃતિ (B) બુદ્ધિપ્રકાશ
 (C) કુમાર (D) પરમ
- (107) પન્નાલાલ પટેલને તેમની કઈ કૃતિ માટે ભારતીય જ્ઞાનપીઠ પારિતોષિક એનાયત થયો હતો?
 (A) મળેલા જીવ (B) માનવીની ભવાઈ
 (C) ભાંગ્યાનો ભેરુ (D) ધમ્મરવલોણું
- (108) ઈચ્છાશંકર પત્નીની બોલતી કઈ રીતે બંધ કરતા?
 (A) પત્નીના નામે થોડાક હજારનો વીમો વધારીને
 (B) પત્નીને માટે સોનાના ઘરેણાં બનાવડાવીને
 (C) પત્નીને મોંઘી સાડી અપાવીને
 (D) પત્નીને ફરવા માટે લઈ જઈને

- (109) ગવતરીએ ત્રીજો હીંછોટો ક્યાં નાંખ્યો?
 (A) વાડીએ (B) સીમડિયે
 (C) ગામને ગોંદરે (D) કોઢારીયે
- (110) કાગળની સૌપ્રથમ શોધ ક્યા દેશમાં થઈ?
 (A) ચીન (B) જાપાન
 (C) ભારત (D) લંડન
- (111) નીચેના પૈકી કયો શબ્દ તદ્દભવ શબ્દ છે?
 (A) રાન (B) સાગર
 (C) વૃક્ષ (D) શબ્દ
- (112) પુત્રવધૂ સાસુને ઉમળકાભેર શું બનાવી રહી હતી?
 (A) સાડી (B) ઘરેણાં
 (C) વાસણ (D) કાપડ
- (113) કોદાળીનું પાનું કોના પગલા વચ્ચેથી ઊંડું ઊતરી ગયું?
 (A) નિશીથની મમ્મીના (B) નિશીથના
 (C) નિશીથના પપ્પાના (D) નિશીથની પત્નીના
- (114) માણસ શેને પોતાનો જન્મસિદ્ધ અધિકાર માને છે?
 (A) મૌનને (B) શાંતિને
 (C) શોરને (D) વીરતાને
- (115) 'મારું ઘર' કાવ્યમાં સંધ્યાના રંગો કેવા દેખાય છે?
 (A) કેસૂડા જેવા કેસરી (B) સ્વર્ણ જેવા પીળા
 (C) સિંદુર જેવા કેસરી (D) સૂરજમુખી જેવા પીળા
- (116) અણદા પાસે શો કસબ હતો?
 (A) વાજાપેટી વગાડવાનો
 (B) તબલા વગાડવાનો
 (C) મોરલી વગાડવાનો
 (D) સારંગી વગાડવાનો

(117) ઘોડાગાડી ક્યાંથી પસાર થઈ રહી હતી?

(A) સનાળીથી

(B) હડાળાથી

(C) બગસરાથી

(D) ખારીથી

(118) કવિ કેવા માર્ગો ઉલ્લંઘવા કહે છે?

(A) કઠિન

(B) ડરાવણા

(C) ભુલામણા

(D) કાંટાળા

(119) નીચેનામાંથી કયું કાવ્ય ભર્તૃહરના નીતિશતકના શ્લોક પર આધારિત છે?

(A) સહવાસ

(B) એક જ દે ચિનગારી

(C) વિસામો

(D) ગવતરી

(120) નીચેની કહેવતમાંથી સમાન અર્થવાળું જોડકું શોધો.

(A) ઝાઝી કીડીઓ સાપને તાણે — ઝાઝા મળ્યા તે ખાવ ટળ્યા.

(B) બોલે તેના બોર વેચાય — ન બોલ્યામાં નવ ગુણ

(C) મન હોય તો માળવે જણાવ — પાકે ઘડે કાંઠા ન ચડે.

(D) ધીરજના ફળ મીઠાં — ઉતાવળે આંબા ન પાકે

(121) નીચેના વિકલ્પો પૈકી કયું બંધબેસતું નથી?

(A) કસબ

(B) હુન્નર

(C) કારીગરી

(D) લેબાશ

(122) 'સહવાસ' કાવ્યના કવિનું નામ જણાવો.

(A) અશ્વિની પાનસે

(B) હરિહર ભટ્ટ

(C) મનોજ ખંડેરિયા

(D) વેણીભાઈ પુરોહિત

(123) નીચેના વાક્યોમાંથી કઈ વાક્ય રચના શુદ્ધ છે?

(A) એક ગૌતમ નામના ઋષિ હતા.

(B) ગૌતમ નામના એક ઋષિ હતા.

(C) ગૌતમ એક ઋષિ હતા.

(D) ગૌતમ નામના ઋષિ એક હતા.

(124) અભિધાન શબ્દનો અર્થ આપો.

(A) શિરોમણિ

(B) યુયુત્સા

(C) અભીષ્ટ

(D) ઉપનામ

- (125) 'જમીનમાં બોડ કરીને રહેતું એક અણીદાર પીંછાવાળું પ્રાણી' શબ્દ સમૂહ માટે એક શબ્દ આપો.
- (A) છછુંદર (B) ઘોખર
(C) શાહુડી (D) કઠફોડિયા
- (126) નીચેનામાંથી કયો સમાસ તત્પુરુષ સમાસ નથી.
- (A) મિત્રભાવ (B) દહીંવડાં
(C) શોકાતુર (D) આશાભર્યા
- (127) નીચેનામાંથી કઈ જોડણી સાચી નથી.
- (A) સદા + એક = સદૈવ (B) યથા + ઈષ્ટ = યથેષ્ટ
(C) વધુ + ઊત્કર્ષ = વધૂત્કર્ષ (D) હૃદય + ઐક્ય = હૃદયક્ય
- (128) નીચેનામાંથી 'અતડો' શબ્દનો વિરુદ્ધાર્થી શબ્દ જણાવો.
- (A) અણદો (B) અણસમજુ
(C) અજ્ઞાત (D) મળતાવડો
- (129) નીચેનામાંથી કયું બંધબેસતું નથી?
- (A) ટીપણું (B) અદબ
(C) વિવેક (D) મર્યાદા
- (130) નીચેનામાંથી કયો તદ્ભવ શબ્દ નથી?
- (A) દિવેટ (B) માખી
(C) બાળક (D) પરિષદ
- (131) નીચેનામાંથી એવો કયો શબ્દ છે જે અરબી-ફારસી શબ્દ છે જે ગુજરાતીમાં પણ બોલાય છે?
- (A) ગુમાસ્તો (B) તાબડતોબ
(C) મહાશય (D) રેડિયો
- (132) રણવીર કયો સમાસ છે?
- (A) કર્મધારય સમાસ (B) મધ્યમપદલોપી સમાસ
(C) તત્પુરુષ સમાસ (D) ઉપપદ સમાસ
- (133) દ્વિગુ સમાસ ઓળખાવો.
- (A) ગૃહસ્થ (B) ષટ્તરિપુ
(C) ચિત્રકાર (D) સંહારક

- (134) 'વસુધેવ' કોનું બીજું નામ છે?
- (A) અર્જુન (B) યુષ્ઠિર
(C) કર્ણ (D) સહદેવ
- (135) નીચેનામાંથી કયું બંધબેસતું નથી?
- (A) કઠોર (B) સંકુલ
(C) નીચ (D) પિથુન
- (136) અનુરાગ કે સ્પૃહા વિનાનું એટલે...
- (A) વિલીન (B) વિરક્ત
(C) વિચલિત (D) વિહ્વળ
- (137) નીચે પૈકી સાચી જોડણી કઈ છે?
- (A) ઢોલિયો (B) શિર્ષક
(C) સામાજિક (D) ભૂલામણી
- (138) નીચેનામાંથી 'એકતા અને સહકારનો ભાવ' ન દર્શાવતી કહેવત જણાવો.
- (A) બહુ તંતુ બલવંત
(B) સંપ ત્યા જંપ
(C) ઝાઝી કીડીઓ સાપને તાણે
(D) વાડ વિના વેલો ન ચડે
- (139) નીચેનામાંથી કયા વાક્યમાં યોગ્ય વિરામ ચિહ્ન મૂકેલ છે?
- (A) 'હા બાપુ, હમણાં કો'ક હારે હંદેહો ક'વડાવું છું...'
(B) 'ભાઈ ! કયું ગામ આવ્યું.'
(C) ઘોડાગાડીના ચાલકે ઉત્તરમાં કહ્યું. આપડું સનાળી ગામ છે.
(D) પાદરમાંથી નીકળ્યા તોય મને યાદ ના કર્યો.
- (140) નીચે પૈકી કુન્દનિકા કાપડિયાની કઈ નવલકથા નથી?
- (A) પરોઢ થતા પહેલાં (B) ભાંગ્યાનાં ભેરુ
(C) અગન - પિપસા (D) સાત પગલા આકાશમાં
- (141) કુસુમના લગ્ન તેની માતા ગુણિયલ કોની સાથે કરાવવા ઈચ્છે છે?
- (A) ચન્દ્રકાન્ત સાથે (B) સરસ્વતીચંદ્ર સાથે
(C) પ્રમાદધન સાથે (D) બુદ્ધિધન સાથે

- (142) 'મનુષ્ય નહિ, કિન્તુ સમય બંધવાન છે' આ વાત કવિ કોના ઉદાહરણ દ્વારા સમજાવે છે?
 (A) અર્જુનના (B) રાજા હરિશચંદ્રના
 (C) રાવણના (D) નેપોલિયનના
- (143) નારાયણ હેમચંદ્ર સાથે વિદેશમાં ગાંધીજીની મુલાકાત થઈ, તે અરસામાં ગાંધીજીનો અઠવાડિયાનો ખર્ચ કેટલો હતો?
 (A) પંદર શિલિંગ (B) તેર શિલિંગ
 (C) સત્તર શિલિંગ (D) બાર શિલિંગ
- (144) "મહાપુરુષો કોઈના પોશાક સામું નથી જોતા, તેઓ તો તેમના હૃદયને તપાસે છે." આ કોણ બોલે છે અને કોને કહે છે?
 (A) ગાંધીજી નારાયણ હેમચંદ્રને કહે છે.
 (B) નારાયણ હેમચંદ્ર કાર્ડિનલ મેનિંગને
 (C) નારાયણ હેમચંદ્ર ગાંધીજીને કહે છે.
 (D) ગાંધીજી કાર્ડિનલ મેનિંગને કહે છે.
- (145) બિસ્મિલ્લાખાં પોતાની શરણાઈ કયા લાકડામાંથી બનવાતા?
 (A) સીસમના (B) દેવદારના
 (C) સાલેમના (D) સાગના
- (146) સમાન હકદાર અને સ્વતંત્ર સહજીવી શ્રમજીવી ધણી – ધણિયાણીની વાત કયા કાવ્યમાં કરવામાં આવી છે?
 (A) કોધી સ્વભાવને
 (B) વતનનો તલસાટ
 (C) વીડી વાઢનારા
 (D) મેળો આપો તો
- (147) કવિ સુંદર 'હંકારી જા' કાવ્યમાં ભક્ત હૃદયને કોની સાથે સરખાવે છે?
 (A) વીણાની વાણી સાથે
 (B) સૂની સરિતા સાથે
 (C) ઝંઝાના ઝંઝર સાથે
 (D) ભૂખી શબરી સાથે
- (148) સ્વાહીલી શબ્દ 'જામ્બો' નો અર્થ જણાવો.
 (A) ઘણો આભાર (B) નમસ્તે
 (C) પધારો (D) વાહ

- (149) ભારતમાં બાળકોને આઠમા ધોરણથી અંગ્રેજી ભણાવાય છે એ વાત કોને નિરર્થક લાગે છે?
- (A) મૂઢુલા બહેન મહેતાને
 (B) મૂઢુલાબહેનના પતિ પ્રવીણભાઈને
 (C) મૂઢુલાબહેનની ભાભી મણારને
 (D) મૂઢુલાબહેનના ભાઈને
- (150) 'વતનનો તલસાટ' કાવ્ય કયા છંદમાં લખાયું છે?
- (A) પૃથ્વી (B) મંદકાન્તા
 (C) અનુષ્ટુપ (D) દોહરો
- (151) ગામમાં વળાવિયાનું કામ કરનાર જાણીતી વ્યક્તિ કોણ હતી?
- (A) બુધો (B) દલભાઈ
 (C) મહીજી બારૈયા (D) વજેસંગ
- (152) નીચેનામાંથી કૃતિ-પાત્રની ખોટી જોડ શોધો.
- (A) મોરના ઈંડા - મહીજી
 (B) થીંગડું - પ્રભાશંકર
 (C) ઢોરાં - રાજમા
 (D) અખાનો સંસાર ત્યાગ - જમની
- (153) નાનાં બાળકો માટે કેવું અઠવાડિયું શરૂ કરવું જોઈએ?
- (A) એક જ સોમવાર ને છ રવિવાર
 (B) એક જ સોમવાર ને પાંચ રવિવાર
 (C) એક જ રવિવાર ને છ સોમવાર
 (D) એક જ સોમવાર ને સાત રવિવાર
- (154) દયારામ 'અઘરો દિવસ' કોને ગણાવે છે?
- (A) મશ્કેલીની દિવસને (B) એમના યુવાનીના દિવસને
 (C) ઘડપણના દિવસને (D) મૃત્યુના દિવસને
- (155) "એક વર્ષો ગોપીજન વલ્લભ, નહીં સ્વામી બીજો." ગાનાર કવિનું નામ જણાવો.
- (A) નરસિંહ મહેતા (B) મીરાંબાઈ
 (C) દયારામ (D) શામળ

- (156) ડો.સુનીતા શાહને બતાવવા આવેલ બાળકીને શેની ઉણપ આવી ગઈ હતી?
 (A) વિટામિન – ‘સી’ (B) વિટામિન – ‘એ’
 (C) વિટામિન – ‘ડી’ (D) વિટામિન – ‘કે’
- (157) આદિકાળના દૂધના સમુદ્રમાં કોનો વાસ છે?
 (A) બ્રહ્મા (B) વિષ્ણુ
 (C) મહેશ (D) ઈન્દ્ર
- (158) બાને કોનો ધ્વનિ સાંભળવાની ટેવ છે?
 (A) રાત્રે વરસાદ ને પવનનો
 (B) ફર્નેસ ફેનનો ઘરઘરાટ
 (C) ગરમ ગરમ હવાના સુસવાટા
 (D) વોશિંગ મશીનનું વ્હૂશ વ્હૂશ
- (159) નીચેનામાંથી કયા વાક્યમાં સંયોજક ખોટો મૂકવામાં આવ્યો છે તે જણાવો.
 (A) થોડીવાર પછી સોકેટિસ જાગ્યો એટલે કીટોએ બધી વાત સમજાવી.
 (B) દલભાઈ કણબી હતા અને વજેસંગ રાજપૂત
 (C) તે તમે કબૂલ કરો છો કે તમારે એ વાત કોઈને કહેવી નહિ?
 (D) ખેડૂત હોય તથા સારી ખેતી કરે.
- (160) નીચેનામાંથી કયા વાક્યનો પદક્રમ યોગ્ય છે તે શોધો.
 (A) તે પાંચ વરસ જૂના આઈસ્ક્રીમના વેપારી છે.
 (B) અહીં શુદ્ધ ગાયનું દૂધ મળે છે.
 (C) મને સરસ ડીશમાં ખમણ આપો.
 (D) ગામમાં એક સફરજન વેચતો ફેરિયો આવ્યો.
- (161) સામનો કરી માર્ગ કરવો એટલે...
 (A) ભાંગજડ (B) વિદારવું
 (C) નિર્વિષથી (D) ઉજમાળું
- (162) ‘તણખો’ શબ્દનો અર્થ આપો.
 (A) અનિમિષ (B) અગણિત
 (C) ચિનગારી (D) અદૃષ્ટ

(163) નીચેનામાંથી કયું બંધબેસતું નથી.

(A) મોં પડી જવું : ઝંખવાણું પડી જવું.

(B) ઢંગલો ઘવું : હતાશ ઘઈ જવું

(C) ચાવી ચડાવવી : સમજાવવું

(D) ચાડી ખાવી : ફરિયાદ કરવી

(164) નીચે પૈકી કયો તત્સમ શબ્દ છે?

(A) જગત

(B) રૂમાલ

(C) ગુલામ

(D) નિદાન

(165) નીચે પૈકી કયું જોડકું ખોટું છે?

(A) અર્ધ + ઈક = આર્થિક

(B) રખડ + ઉં = રખડું

(C) ખેડા + ણ = ખેડાણ

(D) ખેડ + ઉ = ખેડુ

(166) ઊર્મિ કવિ અને ડોલન શૈલીના પ્રયોગશીલ સર્જક તરીકે કોણ સુખ્યાત છે?

(A) મોહમ્મદ માંકડ

(B) ન્હાનાલાલ

(C) ચંદ્રકાન્ત મહેતા

(D) મનોજ ખંડેરિયા

(167) નીચે પૈકી કઈ વાક્યરચના અશુદ્ધ છે?

(A) મારાં કાકી આજે વડોદરાથી આવ્યાં છે.

(B) રમેશ પારેખે ઘણાં બધાં ગીતો લખ્યાં છે.

(C) મારાં મોટાભાઈ ભાવનગર ગયાં.

(D) પરેશ, મીરાં અને રામભાઈ બસમાં બેઠાં.

(168) 'હકડેહકુ' એટલે શું?

(A) નિર્વાહ

(B) ખીચોખીચ

(C) કવખતનું

(D) અંકુશ

(169) નાની વ્યક્તિને ઘેર મોટી વ્યક્તિનું આવવું એટલે...

(A) સો જોશી અને એક ડોશી.

(B) નાયતા આવડે નહીં અને આંગણું વાંકું

(C) ઘરનો ભેદી લંકા ઢાવે

(D) ચકલીના માળે ગરુડ પાધારવાં

- (170) નીચે પૈકી કઈ જોડણી સાચી છે?
- (A) સહાનુભૂતી (B) સહાનુભૂતિ
(C) સહાનુભુતી (D) સહાનૂભુતિ
- (171) 'તારા ઉપર એવું તે કયું દુઃખ આવી પડ્યું કે તું આટલો ઉદાસીન રહે છે.' વાક્યમાંથી સંયોજક શોધો.
- (A) એવું (B) તે
(C) આટલો (D) કે
- (172) નીચે પૈકી કયો શબ્દ બંધબેસતો નથી?
- (A) છોળ (B) મોજું
(C) ધાર (D) તરંગ
- (173) 'ઓસરશો' શબ્દનો અર્થ આપો.
- (A) પાછા હઠશો (B) અડવી
(C) રખોપું (D) ગામોદું
- (174) સરાણ પર ધાર કાઢનાર શબ્દ સમૂહ માટે એક શબ્દ આપો.
- (A) સરાણિયો (B) સુથાર
(C) વળાવિયો (D) સાબધો
- (175) બે શબ્દો, બે વાક્યખંડો કે બે વાક્યોને જોડનાર પદને શું કહેવામાં આવે છે?
- (A) નામયોગી (B) અનુગ
(C) નિપાત (D) સંયોજક
- (176) નીચે પૈકી કયું બંધબેસતું નથી?
- (A) બત્તી ન ફાટવી — જીભ ન ઉપડવી.
(B) પેટનું પાણી ન હાલવું — નચિંત રહેવું
(C) ઠેકાણે પડવું — ધંધે વળગવું
(D) નામ કાઢવું — આબરૂ જવી
- (177) પ્રવાહની મધ્યે શું ચળકી રહ્યું છે? 'મેળો આપો તો' કાવ્યના આધારે જણાવો.
- (A) મૃગજળ (B) તડકો
(C) ચાંદની (D) તારાઓ

- (178) સોક્રેટીસ કઈ વાતને શરમજનક ગણે છે?
- (A) ગરીબી (B) અજ્ઞાનતા
(C) એદીપણું (D) મજૂરીકામ
- (179) નીચેનામાંથી કયા વાક્યનો પદ સંવાદ યોગ્ય છે તે શોધો.
- (A) પેન અને ચોપડો ખોવાયો છે.
(B) ઝાડ પરથી પાંદડાં પડ્યું.
(C) દરેક વિદ્યાર્થીએ પરીક્ષા આપવી પડશે.
(D) પ્રત્યેક નાગરિકોની આ જવાબદારી છે.
- (180) 'એક સરખા દિવસ સુખના....' કાવ્યના કવિ મનુષ્યને કોનાથી ડરવાનું કહે છે?
- (A) મૃત્યુથી (B) આફતથી
(C) દુષ્કર્મથી (D) શત્રુથી
- (181) "ભાષા એટલે ધ્વનિ સંકેતો દ્વારા વિચારોની અભિવ્યક્તિ" – આ વ્યાખ્યા કયા ભાષાશાસ્ત્રીની છે?
- (A) સ્વીટ (B) એડગર
(C) રોબર્ટ (D) વિલિયમ ડ્વાઈડ
- (182) વાર્ષિક શૈક્ષણિક આયોજન કરતી વખતે શિક્ષકે જુદી જુદી બાબતો ધ્યાનામાં રાખવાની હોય છે, જુદી જુદી બાબતોમાં નીચેના પૈકી કઈ બાબત આવશ્યક નથી?
- (A) સમયમર્યાદા (B) વિષયવસ્તુ
(C) પદ્ધતિ (D) ભૌતિક સુવિધાઓ
- (183) આદર્શ કા.પા. કાર્ય (ફલક નોંધ) બાબતે નીચે જણાવેલ બાબતો પૈકી યોગ્ય વિકલ્પ કયો છે?
- (i) વિષયવસ્તુના તારવેલા બધા જ વિશ્લેષણને કા.પા.માં નોંધવા જરૂરી નથી.
(ii) કા.પા. કાર્ય કર્યા પછી વર્ગખંડ છોડતાં પહેલાં કા.પા. નોંધ સાફ કરવી.
- (A) ફક્ત (i) (B) ફક્ત (ii)
(C) (i) અને (ii) બંને (D) (i) અને (ii) પૈકી એક પણ નહિ.
- (184) લેખનકાર્યની કઈ પદ્ધતિમાં બાળક સ્વયં લેખનકાર્ય સુધારે છે?
- (A) જેકોટેટ પદ્ધતિ (B) મોન્ટેસોરી પદ્ધતિ
(C) પેસ્ટોલોજીની રચનાત્મક પદ્ધતિ (D) અનુકરણ પદ્ધતિ

- (185) નીચેના પૈકી કઈ પદ્ધતિ 'સ્વઅધ્યયન કેન્દ્રી' પદ્ધતિ છે?
- (A) અભિક્ષિત અધ્યયન (B) જૂથચર્ચા
(C) નાટક (D) પરિસંવાદ
- (186) શિક્ષક વિદ્યાર્થીઓને શાંતવાચન કરાવતાં પહેલાં બે-ત્રણ પ્રશ્નો આપી વાંચન કરવાનું કહે છે. આ પ્રક્રિયામાં શિક્ષકે આપેલા પ્રશ્નોને કયા પ્રકારના પ્રશ્નો કહેવાય?
- (A) આરંભ પ્રશ્નો (B) હેતુ પ્રશ્નો
(C) સ્વાધ્યાય પ્રશ્નો (D) પૂર્તિ પ્રશ્નો
- (187) નીચેના પૈકી કઈ બાબત / બાબતો આગમન પદ્ધતિને લાગુ પડે છે?
- (i) વિદ્યાર્થીઓ તર્કબદ્ધ વિચારણા કરી નિયમોની તારવણી, ચકાસણી કરી શકે છે.
(ii) ગોખણપટ્ટીને કોઈ અવકાશ નથી.
- (A) ફક્ત (i)
(B) ફક્ત (ii)
(C) (i) અને (ii) બંને
(D) (i) અને (ii) પૈકી એક પણ નહિ.
- (188) આપેલાં ઉપકરણોમાં કયું ઉપકરણ દ્રષ્ટિગમ્ય નથી?
- (A) ચિત્રો (B) મોબાઈલ
(C) ભીંતપત્રો (D) ફ્લેશકાર્ડ
- (189) નીચેના પૈકી કયું સોપાન પ્રોજેક્ટ (પ્રકલ્પ) પદ્ધતિનું પ્રથમ સોપાન છે?
- (A) યોગ્ય પરિસ્થિતિનું નિર્માણ (B) પ્રોજેક્ટની પસંદગી
(C) આયોજન (D) મૂલ્યાંકન
- (190) નીચેના પૈકી 'ચયકેન્દ્રી પદ્ધતિ' કઈ છે?
- (A) નિરીક્ષિત અભ્યાસ (B) મધપૂડો
(C) સંવાદ (D) અધ્યાપન પ્રતિમા
- (191) "માતૃભાષા એ શિક્ષણમાં ચાળણી છે. જે માહિતી માતૃભાષા દ્વારા જ આપી શકાય તે બીજા રૂપમાં હજમ ન કરી શકાય." – આ વિધાન કયા કેળવણીકારનું છે?
- (A) રવિન્દ્રનાથ ટાગોર (B) આચાર્ય વિનોબા ભાવે
(C) મહાત્મા ગાંધી (D) કાકા કાલેલકર

- (192) 'શૈક્ષણિક ધ્યેયો' ને લાગુ ન પડતું હોય તેવું વિધાન કયું છે?
- (A) સમગ્ર શિક્ષણ સાથે સંબંધિત છે.
 (B) સૈદ્ધાંતિક, વ્યાપક અને અંતિમ સ્વરૂપના હોય છે.
 (C) વિષયના સમગ્ર શિક્ષણ વ્યવહારને અંતે સિદ્ધ થાય પણ ખરાં અને ન પણ થાય.
 (D) તેનો આધાર વિષય, ધોરણ અને વિષયાંગ છે.
- (193) જ્ઞાનાત્મક હેતુઓમાં નીચેના પૈકી કઈ બાબતનો સમાવેશ થતો નથી?
- (A) ઉપયોજન (B) સંશ્લેષણ
 (C) મૂલ્ય અધિગ્રહણ (D) મૂલ્યાંકન
- (194) 'વિદ્યાર્થીઓ મેળવેલ જ્ઞાનનો ઉપયોગ કરે.' – આ સામાન્ય હેતુને અનુલક્ષીને વિશિષ્ટ હેતુ કયો છે?
- (A) વિદ્યાર્થીઓ વાચનસામગ્રીનો સારાંશ દર્શાવે.
 (B) વિદ્યાર્થીઓ રોજિંદા જીવનમાં બનતી ઘટનાઓનું કમબદ્ધ વર્ણન કરે.
 (C) વિદ્યાર્થીઓ વાક્યરચનાઓ શુદ્ધ બનાવે.
 (D) વિદ્યાર્થીઓ મુદ્દાને આધારે વાર્તાલેખન કરે.
- (195) "પાઠ આયોજન એ શિક્ષક દ્વારા થતું, વર્ગવ્યવહારને અમલમાં મૂકવા માટેના કાર્યક્રમરૂપ પૂર્વ દર્શનની રૂપરેખા હોય છે." – આ વ્યાખ્યા કોણે આપી છે?
- (A) બોસિંગ
 (B) ભાટિયા અને અરોરા
 (C) બિનિંગ અને બિનિંગ
 (D) ડૉ. રવિન્દ્ર દવે
- (196) શિક્ષકે વિદ્યાર્થીઓને નવા શબ્દોથી પરિચિત કરવા માટેની વિવિધ પ્રયુક્તિઓ છે; તે પૈકી કઈ પ્રયુક્તિ અસરકારક ન ગણાવી શકાય?
- (A) શબ્દને વાક્યમાં પ્રયોજીને
 (B) સમાસ વિગ્રહ કરીને
 (C) આકૃતિ, ચિત્ર કે મોડેલ દ્વારા સમજ
 (D) કા.પા.માં નોંધ કરીને
- (197) નીચેના પૈકી કઈ પદ્ધતિ ગુજરાતી ભાષાશિક્ષણની શિક્ષકકેન્દ્રી પદ્ધતિ છે?
- (A) વર્ણન (B) કાર્યશાળા
 (C) નિરીક્ષિત અભ્યાસ (D) અધ્યાપન પ્રતિમાન

(198) વર્ગમાં પ્રશ્ન પૂછવાની રીત બાબતે વિગત ચકાસો.

(i) પ્રશ્નનું પુનરાવર્તન કરવું.

(ii) અતિ ઝડપથી પ્રશ્નો પૂછવા.

(A) ફક્ત (i)

(B) ફક્ત (ii)

(C) (i) અને (ii) બંને યોગ્ય

(D) (i) અને (ii) બંને અયોગ્ય

(199) “વાચન એ અર્થ મેળવવાની પ્રક્રિયા કરતાં અર્થ તારવાની પ્રક્રિયા છે.” – આ વ્યાખ્યા કયા અભ્યાસીએ આપી છે?

(A) રોબિન્સન

(B) ઝડમેન

(C) થોર્નડાઈક

(D) રુથસ્ટ્રેંગ

(200) નીચેના વિધાનો પૈકી સાચું વિધાન કયું છે?

(A) શ્રવણ કૌશલ્ય વિકાસ પર બુદ્ધિ અસર કરે છે.

(B) અર્થગ્રહણ કૌશલ્યોમાં શ્રવણ અને લેખન બંનેનો સમાવેશ થાય છે.

(C) વ્યક્તિ જ્યારે બોલે છે, ત્યારે કથન કરે છે તેમ કહેવાય જ.

(D) ગદ્ય – પદ્ય સમીક્ષા એ લેખિત અભિવ્યક્તિનું સ્વરૂપ નથી.

